

BLOCO N.º 53

DISCIPLINA HISTÓRIA A

ANO(S) 12.º

APRENDIZAGENS ESSENCIAIS

► A África Subsariana. Degradação das condições de existência; etnias e Estados.

Permanência de focos de tensão em regiões periféricas: a África Subsariana - Entrevista ao Professor Doutor Ricardo Sousa.

Tarefas/ Atividades/ Desafios

DESAFIO

Visualize a entrevista realizada ao Professor Doutor Ricardo Sousa e observe, atentamente, os documentos que se seguem e depois responda.

x

Documento 1 - A POBREZA EM ÁFRICA

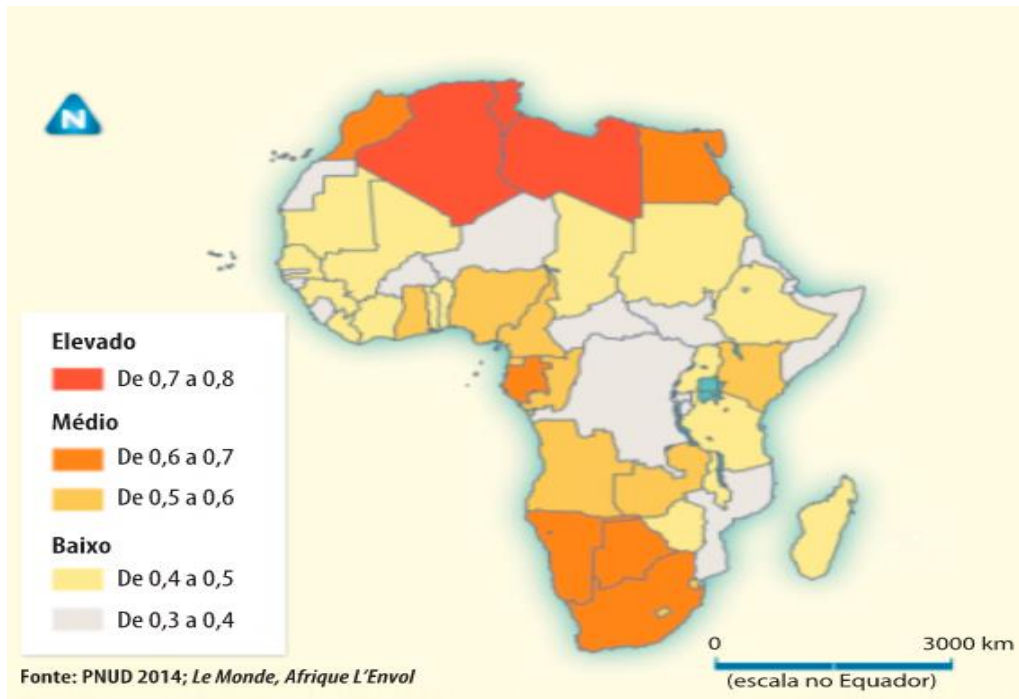
A – O Índice de Desenvolvimento Humano

O IDH ¹ e os seus componentes por região, em 2012					
Regiões	IDH	Esperança de vida à nascença (anos)	Média de anos de escolaridade	Anos de escolaridade esperados	Produto Nacional Bruto per capita (em dólares)
Estados Árabes	0,652	71,0	6,0	10,6	8317
Ásia Oriental e Pacífico	0,683	72,7	7,2	11,8	6874
Europa e Ásia Central	0,771	71,5	10,4	13,7	12243
América Latina e Caraíbas	0,741	74,7	7,8	13,7	10300
Ásia do Sul	0,558	66,2	4,7	10,2	3343
África Subsariana	0,475	54,9	4,7	9,3	2010
Mundo	0,697	70,1	7,5	11,6	10184

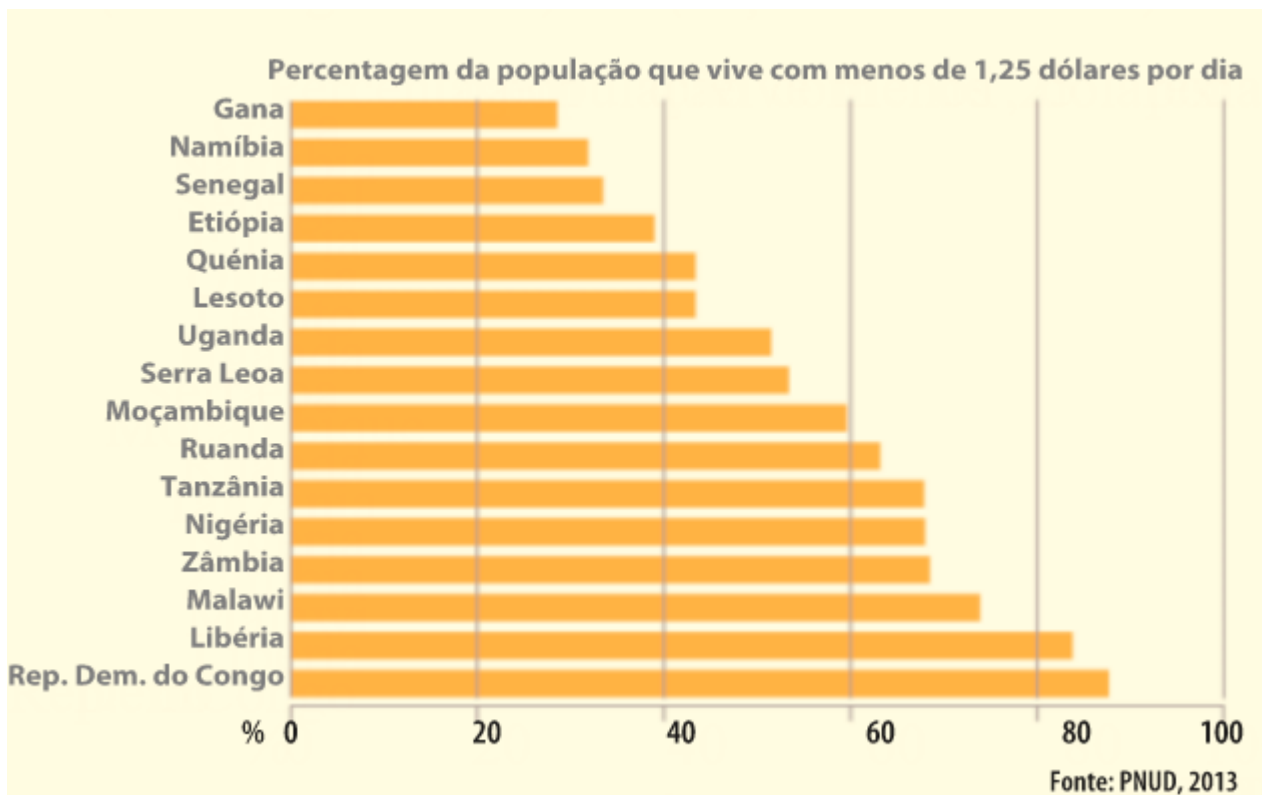
Nota: O IDH varia de zero a um e tem em conta o PNB per capita (nível de vida), esperança média de vida (uma vida longa e saudável) e a escolarização (acesso ao conhecimento)

Fonte: PNUD, 2013

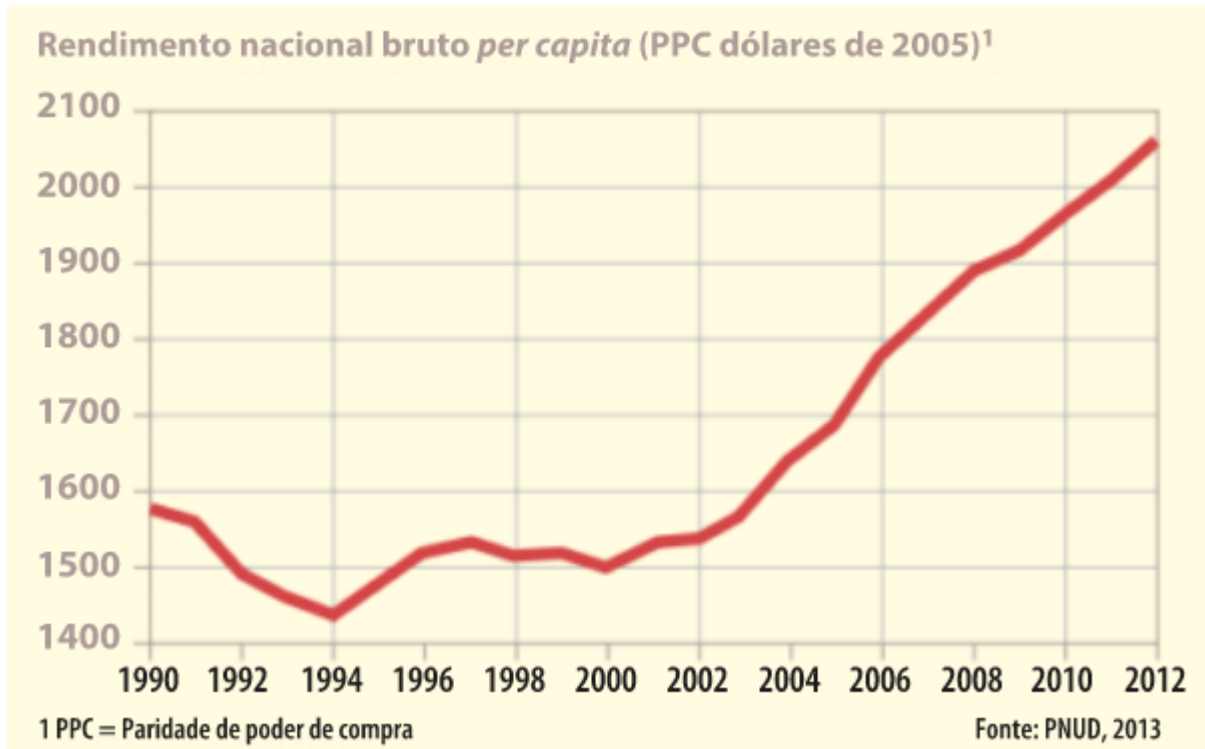
Documento B – Índice de Desenvolvimento Humano



Documento C – A pobreza extrema em alguns países de África

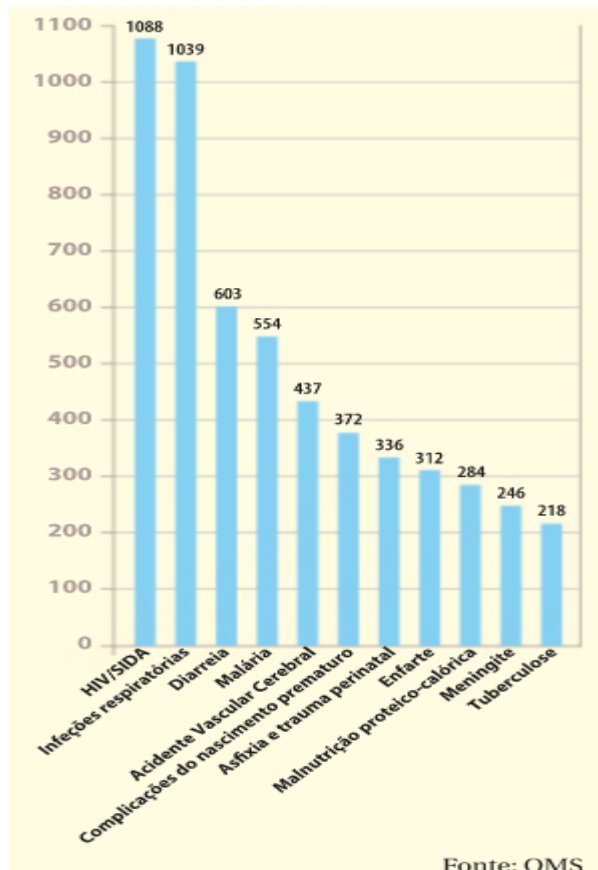


D – Evolução do PNB per capita africano (1990-2012)



Documento 2 – A INEFICÁCIA DOS SISTEMAS DE SAÚDE

A – Mortes (em milhares)



C – Número de infetados com o vírus da SIDA, em 2011

N.º de infetados com o vírus da sida, em 2011	
Região	N.º de pessoas infetadas
América do Norte	1 400 000
Caraíbas	230 000
América Central e do Sul	1 400 000
Médio Oriente e Norte de África	300 000
África Subsariana	23 500 000
Europa Ocidental e Central	900 000
Europa de Leste e Ásia Central	1 400 000
Ásia Oriental	830 000
Ásia de Sul e Sudeste	4 000 000
Oceânia	53 000
Total	c. 34 000 000

Fonte: ONUSIDA

1. **Identifique** a região do mundo que apresenta o índice de Desenvolvimento Humano mais baixo (DOC. 1).
2. **Compare**, em linhas gerais, a evolução do PIB africano na última década do século XX e na primeira década do século XXI (DOC. 1).
3. Relativamente ao total de infetados com HIV, **que percentagem representa** a África Subsariana (DOC.2)?