

#ESTUDOEMCASA

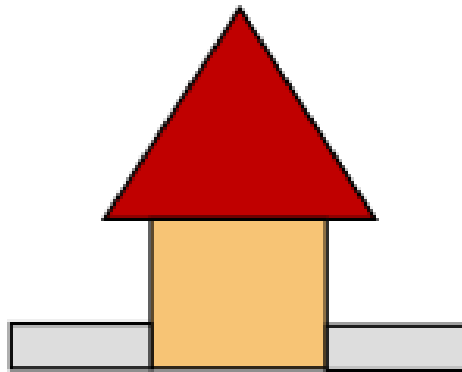
BLOCO N.º 37		DISCIPLINA Matemática
ANO(S)	2.º	
APRENDIZAGENS ESSENCIAIS	<ul style="list-style-type: none"> • Descrever figuras planas, identificando as suas propriedades, e representá-las a partir de atributos especificados. 	

Título/Tema do Bloco

POLÍGONOS E CÍRCULO (1).

Tarefas/ Atividades/ Desafios

1. A figura apresenta uma construção com polígonos.



1.º ciclo/2.º ano

1.º ciclo/2.º ano

1.º ciclo/2.º ano

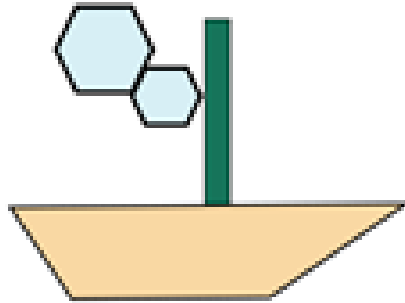
Quantos triângulos fazem parte da construção?

R. _____

E quantos quadriláteros fazem parte da construção?

R. _____

2. A figura apresenta uma construção com polígonos.



1.º ciclo/2.º ano

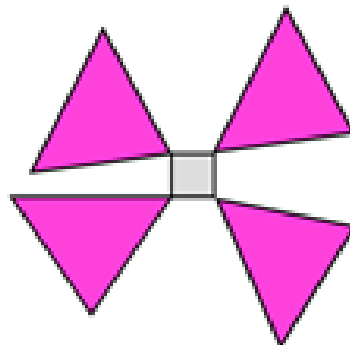
1.º ciclo/2.º ano

1.º ciclo/2.º ano

Quantos hexágonos fazem parte da construção?

R. _____

3. A figura apresenta uma construção com polígonos.




1.º ciclo/2.º ano

1.º ciclo/2.º ano

Quantos triângulos fazem parte da construção?

R. _____

4. Realiza uma construção com figuras à tua escolha, utilizando papel quadriculado.



1.º ciclo/2.º ano

1.º ciclo/2.º ano