

#ESTUDOEMCASA

BLOCO N.º 40

DISCIPLINA Matemática

ANO(S) 1.º

APRENDIZAGENS ESSENCIAIS

- Comparar e ordenar objetos de acordo com a grandeza comprimento e medi-los utilizando unidades de medida não convencionais (2).


Título/Tema do Bloco

COMPRIMENTO (2)

Tarefas/ Atividades/ Desafios

QUIZ


1. Considera a seguinte imagem de um grupo de alunos identificados por letras:



Qual dos alunos é o mais alto?

- (A) Aluno A.
 (B) Aluno C.
 (C) Aluno E.

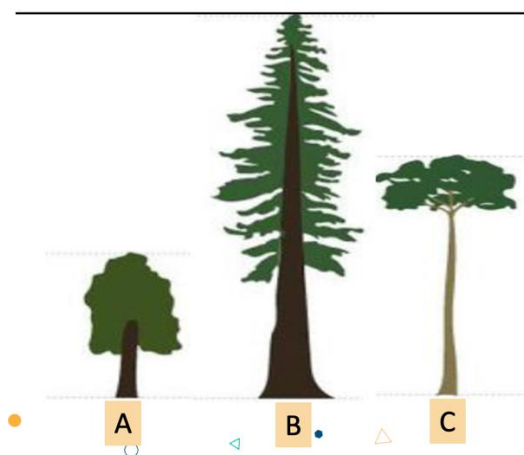
2. Considera a seguinte imagem de um grupo de alunos identificados por letras:



Qual dos alunos é o mais baixo?

- (A) Aluno A.
- (B) Aluno D.
- (C) Aluno E.

3. Considera a seguinte imagem de diferentes árvores:



Qual das árvores é a mais alta?

- (A) A árvore A.
- (B) A árvore B.
- (C) A árvore C.