

#ESTUDOEMCASA

BLOCO N.º 36

Matemática x

ANO(S) 1.º

APRENDIZAGENS ESSENCIAIS

- Efetuar contagens progressivas e regressivas, com e sem recurso a materiais manipuláveis (incluindo contagens de 2 em 2, 3 em 3, 5 em 5, 10 em 10), e registar as sequências obtidas.

Título/Tema do Bloco

Visualização e contagem (2).

Tarefas/ Atividades/ Desafios


1 ciclo/1.º ano

1. Considera o seguinte grupo de animais:




Quantos são os animais?

2. Considera o seguinte grupo de animais:



Quantos são os animais?

3. Considera o seguinte grupo de animais:



Quantos são os animais?


4. Considera o grupo de alunos.




Quantos são os alunos?

QUIZ

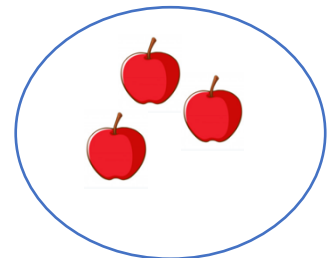
1. Considera o grupo de frutos.



Grupo A



Grupo B




Grupo C

Qual é o grupo com mais frutos?

- (A) Grupo A.
- (B) Grupo B.
- (C) Grupo C.

2. Considera as figuras:



Quantos lápis estão no copo A?

- (D) 5 Lápis.
- (E) 10 lápis.
- (F) 15 lápis.