

#ESTUDOEMCASA

BLOCO N.º 10		Matemática x
ANO(S)	1.º	
APRENDIZAGENS ESSENCIAIS	<ul style="list-style-type: none"> • Reconhecer e memorizar factos básicos da adição. • Calcular com os números inteiros não negativos recorrendo à representação horizontal do cálculo, em diferentes situações. • Reconhecer e utilizar diferentes representações para o mesmo número e relacioná-las. 	

Título/Tema do Bloco

Calcular a partir do número 5, usando o colar de contas e a reta numérica. Resolução de problemas.

Tarefas/ Atividades/ Desafios

1. Livros na estante

A Isa arrumou os seus livros numa estante.

A Isa colocou 5 livros de aventuras numa prateleira e 2 livros sobre animais noutra prateleira.

1 ciclo/1.º ano




Quantos livros colocou na estante?

2. Peixes

Um aquário tinha 5 peixes.

1 ciclo/1.º ano



A Madalena comprou 3 peixes e colocou-os no aquário.

Quantos peixes tem o aquário?

3. Ovos

O Rui quer fazer um bolo com 10 ovos, mas só tem 5 ovos.

1 ciclo/1.º ano




Quantos ovos tem o Rui de adquirir antes de fazer o bolo com 10 ovos?

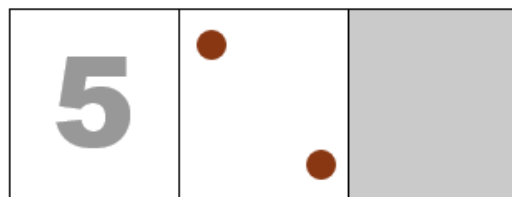
5. Jogo com pintas

5.1. Quantas pintas estão em falta?

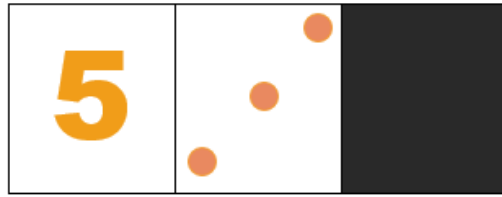
1 ciclo/1.º ano




5.2. Quantas pintas estão em falta?




5.3. Quantas pintas estão em falta?



5.4. Quantas pintas estão em falta?



6. Quiz



6.1. A figura representa uma peça de dominó:

1 ciclo/1.º ano



Quantas pintas faltam para a peça ter 8 pintas?

- A) Faltam 3 pintas.
- B) Faltam 4 pintas.
- C) Faltam 5 pintas.

6.2. A figura representa uma peça de dominó:



Quantas pintas faltam para a peça ter 7 pintas?

- A) Faltam 2 pintas.
- B) Faltam 3 pintas.
- C) Faltam 4 pintas.

6.3. A figura representa uma peça de dominó:



Quantas pintas faltam para a peça ter 10 pintas?

- A) Faltam 4 pintas.
- B) Faltam 5 pintas.
- C) Faltam 6 pintas.

6.4. A figura representa uma peça de dominó:



Quantas pintas faltam para a peça ter 9 pintas?

- A) Faltam 4 pintas.
- B) Faltam 5 pintas.
- C) Faltam 6 pintas.

6.5. A figura representa uma peça de dominó:



Quantas pintas faltam para a peça ter 9 pintas?

- A) Faltam 3 pintas.
- B) Faltam 2 pintas.
- C) Falta 1 pinta.

6.6. A figura representa uma peça de dominó:



Quantas pintas faltam para a peça ter 9 pintas?

- A) Não faltam pintas.
- B) Falta 1 pinta.
- C) Faltam 2 pintas.